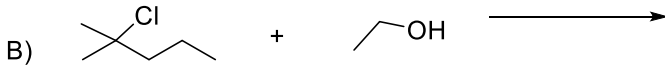
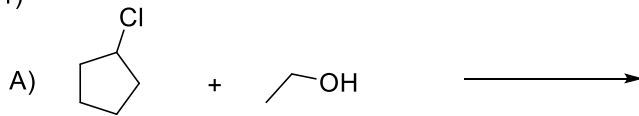


TAREA 24 DE FEBRERO

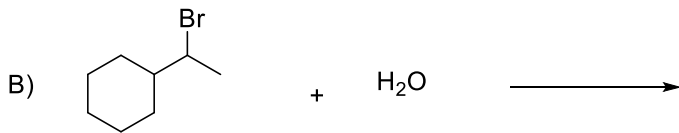
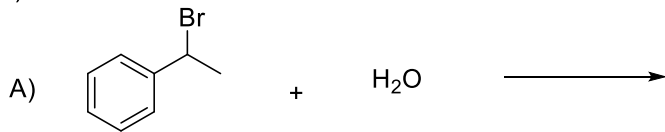
Instrucciones

Para cada par de reacciones escriba la estructura del(os) producto(s) y diga cuál está más favorecida dando una breve explicación. Escriba mecanismos de reacción que justifique la formación de cada uno de los productos para las reacciones 2 A) y 4 A). Para la reacción 2 A) dibuje el diagrama de energía de reacción incluyendo las estructuras de cada uno de los intermediarios y estados de transición.

1)



2)



3)



4)

